

_____ 小学校 _____ 年 _____ 組 _____

てんじじょう
展示場ワークシート B

オセアニア



チェチェメニ号は太平洋のサタウル島から、3,000 キロメートルの航海をして沖縄に来ました。帆は何でできていますか。選んで番号を記入しましょう。()

- ① 木綿の布
- ② プラスチックのシート
- ③ 紙
- ④ 植物の葉

アメリカ



左の工芸品は、右のどの国で制作されていますか。線で結びましょう。

- | | | |
|------------|---|---------------|
| 木彫アレプリハ | • | アメリカ合衆国(ホピなど) |
| イヌイット版画 | • | メキシコ(オアハカ州) |
| やきもの | • | カナダ |
| 宝飾品(ジュエリー) | • | ペルー(チュルカナス) |

“つくる” セクション

アフリカ

ビーズはどんな材料で作られていますか。
3つ書いてください。そして、あなたが一番きれいだと思うものに○をつけましょう。

() ()
()



おんがく
音楽



この太鼓は、北米のタイコ・グループによって手作りされたものです。胴(木の部分)は何を利用していますか。

()

てんじじょう
展示場ワークシート B

みなみ
南アジア





- “染織の伝統と現代”のセクションで、見つけたものに
- をしましょう。
 - 日本のブランド HaaT のワンピース
 - 両面木版捺染布 (アジュラク)
 - ミラー刺繍の女性用スカート (儀礼用)
 - 携帯用紡ぎ車
 - その他 ()

とうなん
東南アジア

かき 笠がたくさんてんじ 展示されています。
す 好きなデザインをスケッチしましょう。

ゆとりぎスペースのゴザにすわってみて!



ひがし 東アジア ちゅうごくちいき 中国地域の文化




この笛は、雲南省の少数民族の楽器ですが、今では中国の一部の学校の教材にもなっています。
竹と何でできているでしょう。

()

ひがし 東アジア にほん 日本文化

次の写真は、祭りで身に付けるものです。どのようにして使うのか、下の□の
なかから選んで、番号を記入しましょう。



()



()



()

- ① 仮装 (=変身) する
- ② 腰に下げる
- ③ 背負う
- ④ 頭にかぶる

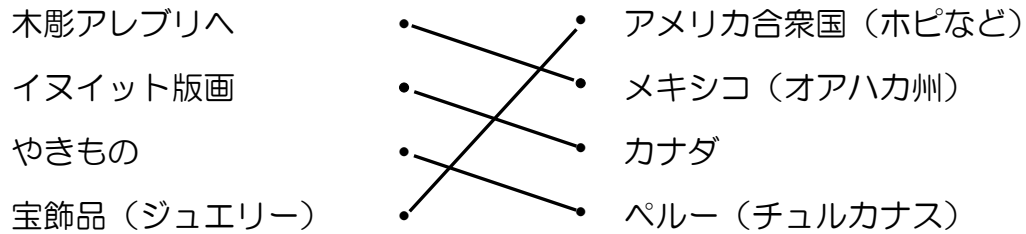
解 答（指導者用）

展示場ワークシート B

オセアニア

④ 植物の葉

アメリカ



アフリカ

コハク、ガラス、ダチョウの卵殻、ストロー、キャンディーの棒、プラスチック、鉄、トンボ玉、貝殻、犬の歯、粘土、注射針のカバー、スイカの種など

音楽

ワイン樽

南アジア

筒条書きにしているものは、すべて展示されている。見つけたものに☑すればよい。

☑その他

染織技術解説パネル、サリー、女性用衣装、女性用靴（ジュッティ）、女性用上衣、男性用衣装、肩掛け、ゆりかご用布、かばん、ショップバック、ネクタイ、ターバン、絵画、書籍など。

東南アジア

自由

東アジア 中国地域の文化

ひょうたん

東アジア 日本の文化

（ ① 、 ④ ） （ ④ ） （ ③ ）